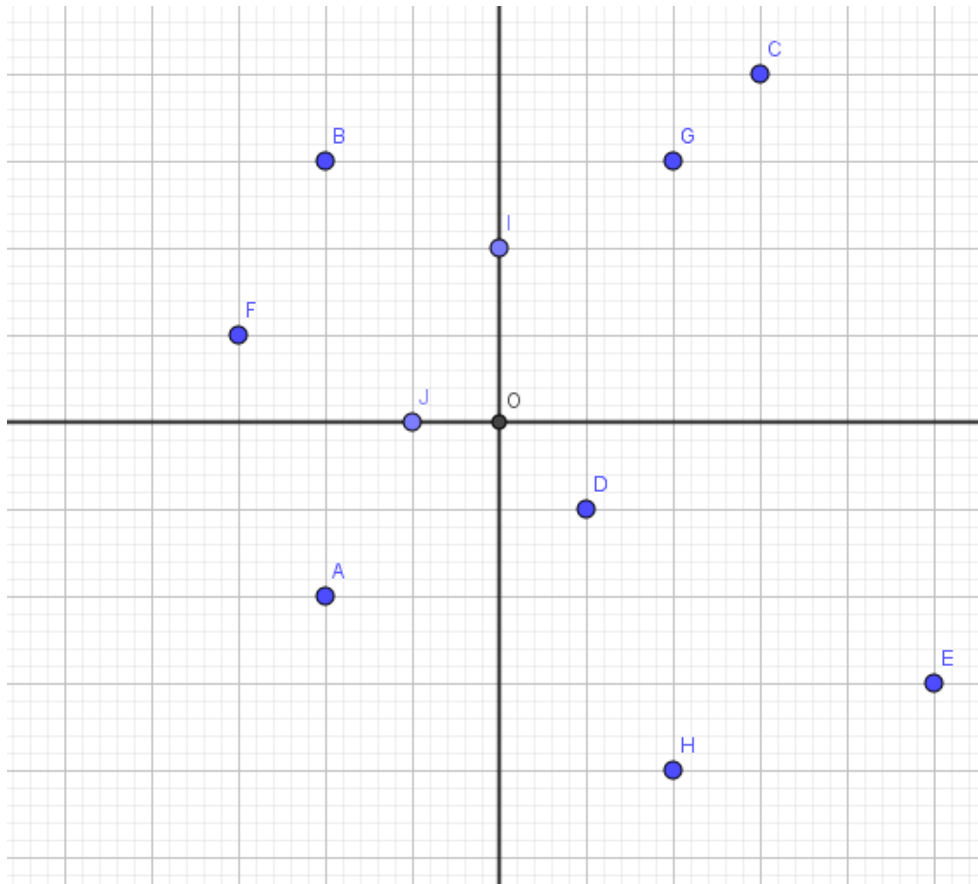


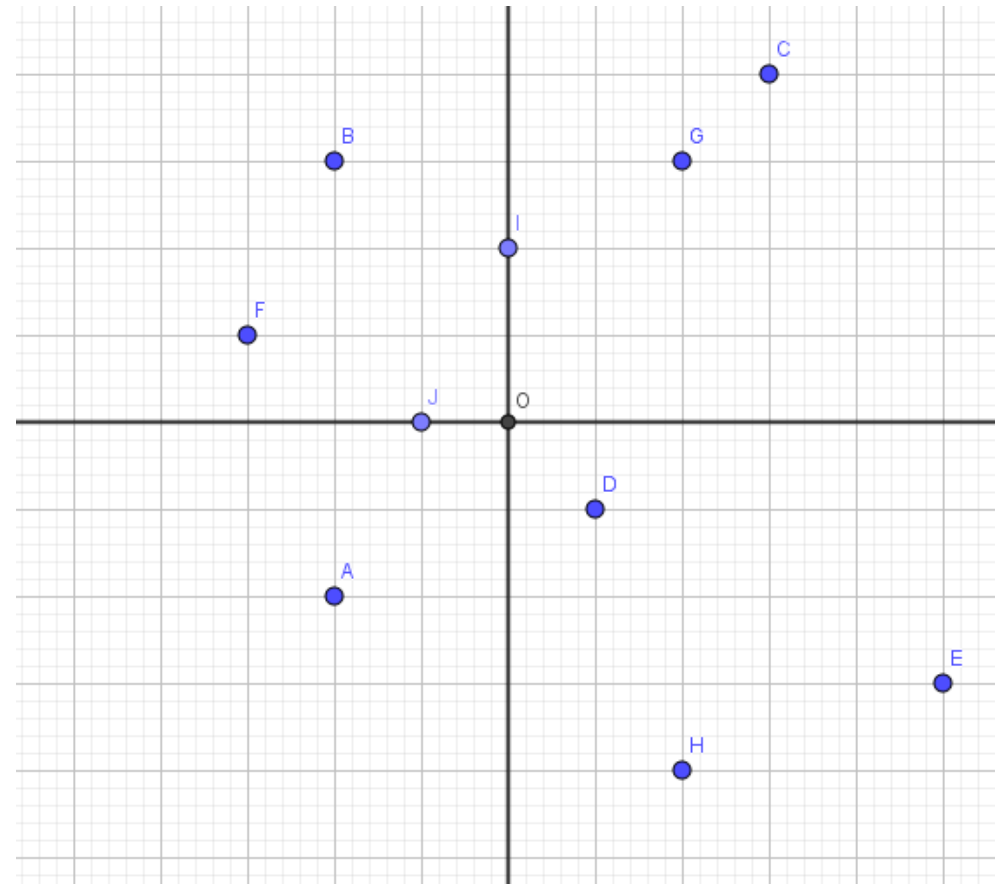
Interrogation surprise



Nous travaillerons dans le repère $(O; I; J)$

- 1) Déterminer les coordonnées des points A, F, C et D
- 2) Placer les points $L(1; 5)$ et $M(0,5; -4)$.

Interrogation surprise

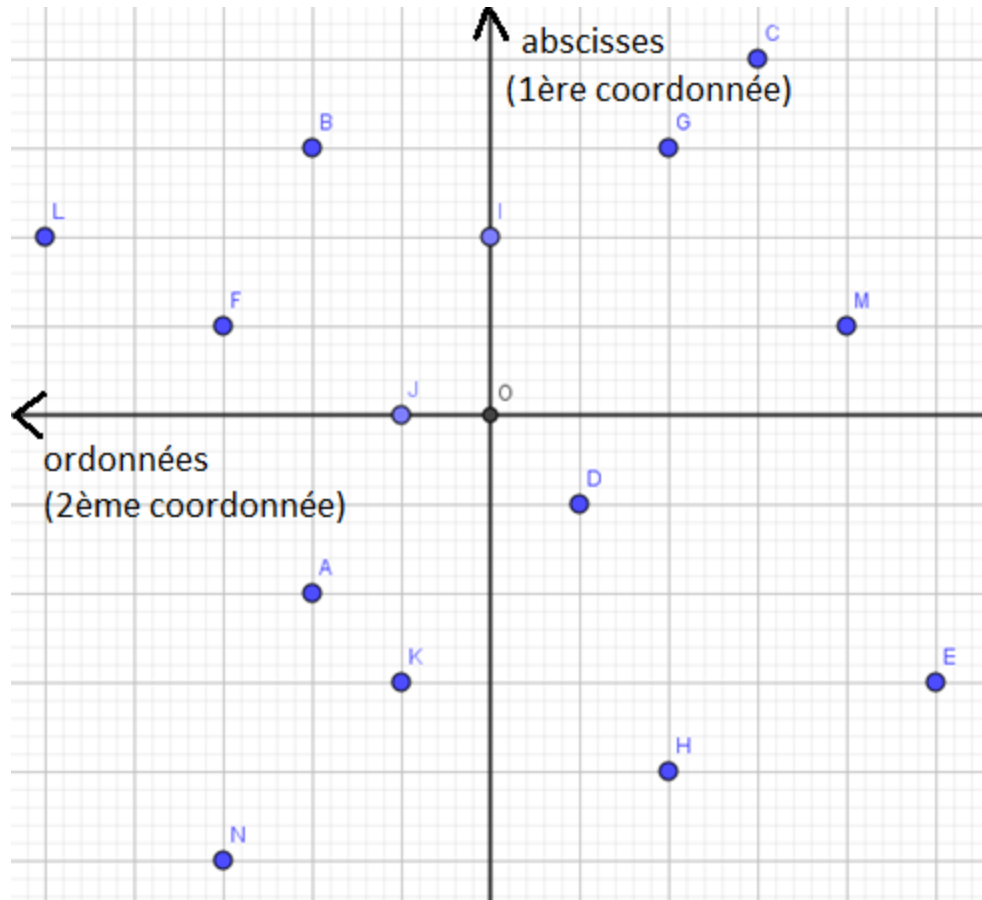


Nous travaillerons dans le repère $(O; I; J)$

- 1) Déterminer les coordonnées des points E, B, G et H
- 2) Placer les points $K(-1,5; 1)$ et $N(-2,5; 3)$.

Correction :

$A(-1; 2)$, $B(1,5; 2)$, $C(2; -3)$, $D(-0,5; -1)$, $E(-1,5; -5)$, $F(0,5; 3)$,
 $G(1,5; -2)$, $H(-2; -2)$, $I(1; 0)$, $J(0; 1)$, $K(-1,5; 1)$, $L(1; 5)$, $M(0,5; -4)$,
 $N(-2,5; 3)$



Remarques :

Attention aux notations : il n'y a pas de signe égal entre la lettre et ses coordonnées.

Il faut orienter les axes et faire attention à celui qui est associé à la première coordonnée (on peut aussi graduer les axes si ça nous aide)